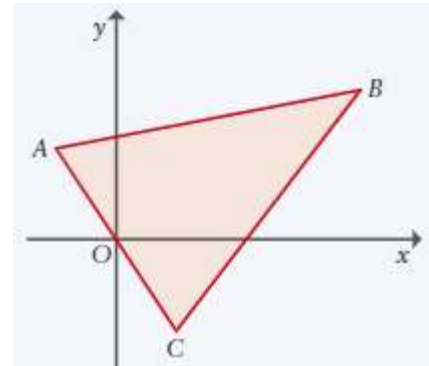


<p>FICHA DE TRABALHO N.º 5 (Resolução de problemas - Geometria Analítica)</p>	<p>TURMAS: 10.ºA/10.ºB</p>	<p>2019/2020</p>
---	----------------------------	------------------

1. Na figura seguinte está representado um triângulo [ABC], num plano o.n. Oxy, cuja unidade é a unidade de comprimento dos eixos coordenados.



Sabe-se que:

- . o ponto O é o ponto médio de [AC]
- . o vetor \overrightarrow{AB} tem coordenadas (10, 2)
- . o vetor \overrightarrow{BC} tem coordenadas (-6, -8)

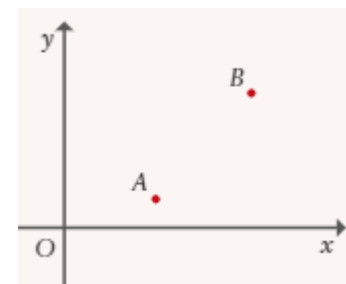
1.1. Determina as coordenadas dos pontos A e C

1.2. Mostra que o ponto B tem coordenadas (8, 5)

1.3. Seja D o ponto de interseção da reta AB com o eixo Oy. Determina a área do triângulo [AOD].

1.4. Averigua qual é a posição da origem do referencial em relação à circunferência de diâmetro [AB].

2. Considera os pontos A e B representados no plano da figura ao lado. Seja s a mediatriz do segmento de reta [AB] e sejam m e b, respetivamente, o declive e a ordenada na origem da reta s. Qual é a opção verdadeira? Justifica.



[A] $m > 0 \wedge b > 0$

[B] $m > 0 \wedge b < 0$

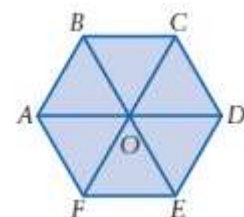
[C] $m < 0 \wedge b > 0$

[D] $m < 0 \wedge b < 0$

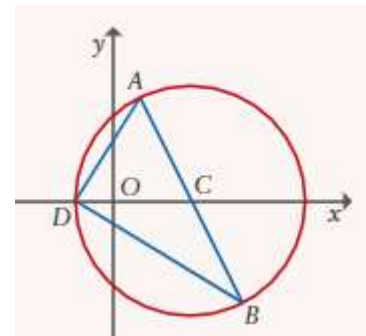
3. A figura seguinte representa um hexágono regular [ABCDEF].

O ponto O é o centro do hexágono.

Mostra que: $\overrightarrow{AB} + \overrightarrow{AC} + \overrightarrow{AD} + \overrightarrow{AE} + \overrightarrow{AF} = 6\overrightarrow{AO}$



4. Na figura ao lado representa-se um plano em que está instalado um referencial o.n. e a circunferência, de centro em C, definida por: $(x-3)^2 + y^2 = 20$.



Sabe-se que:

- . [AB] é um diâmetro da circunferência;
- . O ponto D pertence à circunferência e ao eixo das abscissas;
- . a área do triângulo [ABD] é igual a $8\sqrt{5}$ u.a.

4.1. Qual é a abscissa do ponto D?

4.2. Mostra que a reta definida por $(x, y) = \left(-\frac{1}{5}, 2\right) + k(8, -5), k \in \mathbb{R}$ divide a circunferência em dois arcos de igual comprimento.

4.3. Determina as coordenadas dos pontos A e B.

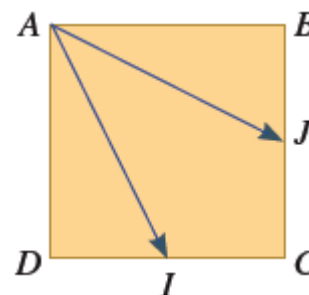
Sugestão: começa por relacionar as áreas dos triângulos [ACD] e [BCD]

5. Na figura, está representado o quadrado [ABCD].

Sabe-se que:

- . o ponto I é o ponto médio do lado [DC]
- . o ponto J é o ponto médio do lado [BC]

Mostra que $\overrightarrow{AI} + \overrightarrow{AJ}$ é colinear com \overrightarrow{AC}



6. Seja s a reta de equação $y = ax + 12, a \in \mathbb{R}^-$

Determina o valor de a, de forma que a área do triângulo, formado pela origem do referencial e pelos dois pontos de interseção da reta s com os eixos coordenados, seja 24.

7. Na figura ao lado está representado um triângulo equilátero [ABC].

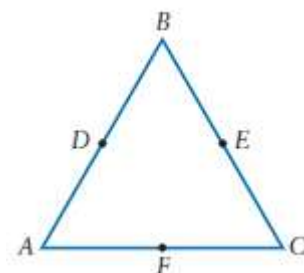
Os pontos D, E e F são os pontos médios dos lados do triângulo.

A área do triângulo [ABC] é igual a 16.

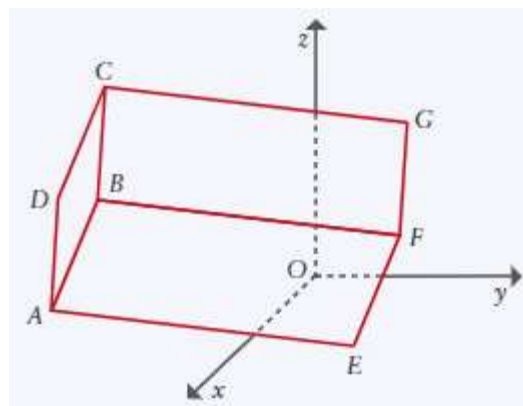
Sabe-se que:

- . $X = B - \frac{1}{2}\overrightarrow{AD}$
- . $Y = C - \overrightarrow{DF} + \frac{1}{2}\overrightarrow{FA}$
- . $Z = A - 2(\overrightarrow{CF} + \frac{3}{4}\overrightarrow{DF})$

Determina a área do triângulo [XYZ].



8. Na figura está representado, em referencial o.n. do espaço, um prisma quadrangular regular [ABCDEFGH] (O ponto H não está representado na figura).



Sabe-se que:

- . O ponto A tem coordenadas (14, -7, 4)
- . O ponto B tem coordenadas (16, -4, 10)
- . O ponto C tem coordenadas (10, -6, 13)
- . O ponto E tem coordenadas (8, 5, 0)

8.1. Determina as coordenadas dos restantes vértices do prisma

8.2. Determina o volume do prisma

8.3. Determina por uma condição a aresta [AB]

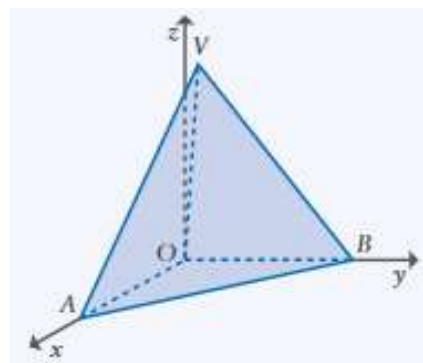
8.4. Determina o ponto de interseção da reta AE com o plano yOz

8.5. Define por uma condição cartesiana a reta que passa no ponto B e é paralela ao eixo Oy

8.6. Determina uma equação do plano DBF e apresenta-a na forma $ax+by+cz+d=0$.

9. Considera um referencial o.n. Oxyz e a pirâmide triangular de vértices O, A, B e V. Os vértices A e B pertencem aos semieixos positivos Ox e Oy, respetivamente, e o vértice V tem cota 6. A reta AV é definida por:

$$(x, y, z) = (-2, 2, 12) + k(3, -1, -6), k \in \mathbb{R}$$



9.1. Determina as coordenadas dos pontos A e V

9.2. Determina as coordenadas de B sabendo que, tomando o centímetro para unidade de comprimento, a pirâmide tem de volume 20 cm^3 .

9.3. Admite agora que $A(4, 0, 0)$, $B(0, 5, 0)$ e $V(1, 1, 6)$

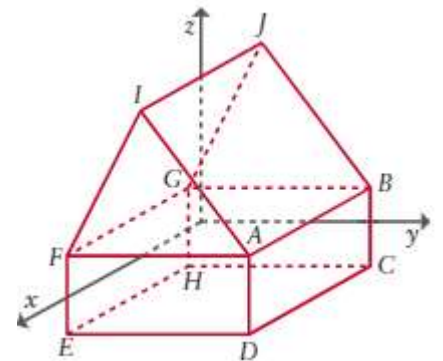
9.3.1. Determina as coordenadas do ponto em que a reta BV interseca o plano xOz

9.3.2. Escreve a equação do plano mediador de [AB]

9.3.3. Escreve a equação reduzida da superfície esférica com centro em V e que passa em A. Qual é a posição de B em relação a essa superfície esférica?

10. Considera a esfera E, definida pela condição $(x-1)^2 + (y-2)^2 + (z-3)^2 \leq 36$ e a reta r definida por $(x, y, z) = (1, 2, 3) + k(-2, 0, 1), k \in \mathbb{R}$. A interseção da reta r com a esfera E é um segmento de reta. Determina o comprimento desse segmento de reta.

11. A figura representa um paralelepípedo retângulo [ABCDEFGH] e um prisma triangular reto [AFIJBG]. Sabe-se que:



- . a face [AFGB], que é comum aos dois sólidos, está contida no plano xOy;
- . o plano yOz é o plano mediador de [AB];
- . $\overline{AF} = \overline{AI}$;
- . Os vértices I e J têm ordenadas nulas;
- . as coordenadas de D são (3, 3, -2)
- . as coordenadas de F são (a, b, 0) e que $a + b = 1$

11.1. Determina as coordenadas dos pontos F, E, C e I

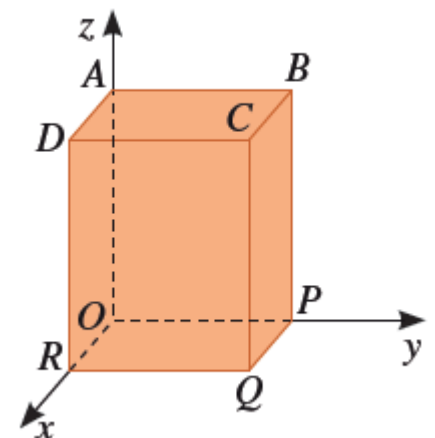
11.2. Identifica e determina a área de interseção do sólido com o plano de equação $z = 1$

11.3. Escreve uma equação vetorial da reta AJ e determina as coordenadas do ponto em que ela intersesta o plano yOz

11.4. Escreve uma condição que defina a reta que contém a altura do triângulo [FIA] relativa à base [FA].

11.5. Determina o volume do prisma [AFIJBG]

12. Na figura está representado, em referencial o.n. Oxyz, um prisma quadrangular regular.



- . A base [OPQR] está contida no plano xOy
- . O ponto Q tem de coordenadas (2, 2, 0)
- . O vetor \overline{AQ} tem de coordenadas (2, 2, -4)

12.1. Indica para que valores reais de a o plano de equação $z = a$ tem interseção não vazia com o prisma.

12.2. Determina a inequação reduzida da esfera de diâmetro [BR]

12.3. Considerando a esfera que definiste em 12.2., determina para que valores reais de b a interseção da esfera com o plano $y = b$ é um círculo de área 5π .

12.4. Determina as equações paramétricas da reta QH, em que H é o centro da face [ABCD], e determina as coordenadas do ponto de interseção de QH com o eixo OZ.